

MATEMÁTICA

CAPÍTULO 9 PROBABILIDADE



QUESTÃO 01

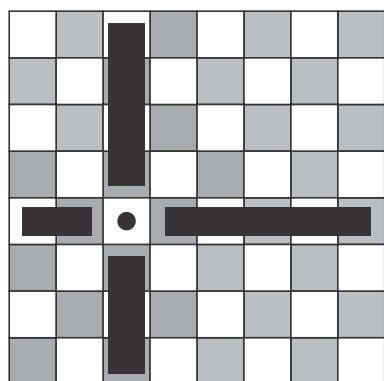
(ENEM 2016 2ª APLICAÇÃO) Um casal, ambos com 30 anos de idade, pretende fazer um plano de previdência privada. A seguradora pesquisada, para definir o valor do recolhimento mensal, estima a probabilidade de que pelo menos um deles esteja vivo daqui a 50 anos, tomando por base dados da população, que indicam que 20% dos homens e 30% das mulheres de hoje alcançarão a idade de 80 anos.

Qual é essa probabilidade?

- A** 50%
- B** 44%
- C** 38%
- D** 25%
- E** 6%

QUESTÃO 02

(ENEM 2018 1ª APLICAÇÃO) Um designer de jogos planeja um jogo que faz uso de um tabuleiro de dimensão $n \times n$, com $n \geq 2$, no qual cada jogador, na sua vez, coloca uma peça sobre uma das casas vazias do tabuleiro. Quando uma peça é posicionada, a região formada pelas casas que estão na mesma linha ou coluna dessa peça é chamada de zona de combate dessa peça. Na figura está ilustrada a zona de combate de uma peça colocada em uma das casas de um tabuleiro de dimensão 8×8 .



O tabuleiro deve ser dimensionado de forma que a probabilidade de se posicionar a segunda peça aleatoriamente, seguindo a regra do jogo, e esta ficar sobre a zona de combate da primeira, seja inferior a $1/5$.

A dimensão mínima que o designer deve adotar para esse tabuleiro é

- A** 4×4 .
- B** 6×6 .
- C** 9×9 .
- D** 10×10 .
- E** 11×11 .

QUESTÃO 03

(ENEM 2015 1ª APLICAÇÃO) O HPV é uma doença sexualmente transmissível. Uma vacina com eficácia de 98% foi criada com o objetivo de prevenir a infecção por HPV e, dessa forma, reduzir o número de pessoas que venham a desenvolver câncer de colo de útero. Uma campanha de vacinação foi lançada em 2014 pelo SUS, para um público-alvo de meninas de 11 a 13 anos de idade. Considera-se que, em uma população não vacinada, o HPV acomete 50% desse público ao longo de suas vidas. Em certo município, a equipe coordenadora da campanha decidiu vacinar meninas entre 11 e 13 anos de idade em quantidade suficiente para que a probabilidade de uma menina nessa faixa etária, escolhida ao acaso, vir a desenvolver essa doença seja, no máximo, de 5,9%. Houve cinco propostas de cobertura, de modo a atingir essa meta:

- Proposta I: vacinação de 90% do público-alvo.
- Proposta II: vacinação de 55,8% do público-alvo.
- Proposta III: vacinação de 88,2% do público-alvo.
- Proposta IV: vacinação de 49% do público-alvo.
- Proposta V: vacinação de 95,9% do público-alvo.

Para diminuir os custos, a proposta escolhida deveria ser também aquela que vacinasse a menor quantidade possível de pessoas.

www.virus HPV.com.br. Acesso em: 30 ago. 2014 (adaptado).

A proposta implementada foi a de número

- A** I.
- B** II.
- C** IV.
- D** III.
- E** V.

QUESTÃO 04

(ENEM 2009 1ª APLICAÇÃO) A população brasileira sabe, pelo menos intuitivamente, que a probabilidade de acertar as seis dezenas da mega sena não é zero, mas é quase. Mesmo assim, milhões de pessoas são atraídas por essa loteria, especialmente quando o prêmio se acumula em valores altos. Até junho de 2009, cada aposta de seis dezenas, pertencentes ao conjunto $\{01, 02, 03, \dots, 59, 60\}$, custava R\$ 1,50.

www.caixa.gov.br. Acesso em: 7 jul. 2009.



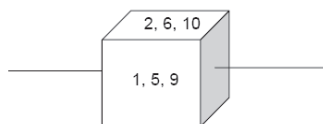
Considere que uma pessoa decida apostar exatamente R\$ 126,00 e que esteja mais interessada em acertar apenas cinco das seis dezenas da mega sena, justamente pela dificuldade desta última.

Nesse caso, é melhor que essa pessoa faça 84 apostas de seis dezenas diferentes, que não tenham cinco números em comum, do que uma única aposta com nove dezenas, porque a probabilidade de acertar a quina no segundo caso em relação ao primeiro é, aproximadamente,

- A 2 1/2 vezes menor.
- B 4 vezes menor.
- C 1 1/2 vez menor.
- D 9 vezes menor.
- E 14 vezes menor.

QUESTÃO 05

(ENEM SIMULADO MEC 2009) Em um cubo, com faces em branco, foram gravados os números de 1 a 12, utilizando-se o seguinte procedimento: o número 1 foi gravado na face superior do dado, em seguida o dado foi girado, no sentido anti-horário, em torno do eixo indicado na figura abaixo, e o número 2 foi gravado na nova face superior, seguinte, conforme o esquema abaixo.



O procedimento continuou até que foram gravados todos os números. Observe que há duas faces que ficaram em branco. Ao se jogar aleatoriamente o dado apresentado, a probabilidade de que a face sorteada tenha a soma máxima é

- A 1/6
- B 1/4
- C 1/3
- D 1/2
- E 2/3

QUESTÃO 06

(ENEM 2009 CANCELADO) Dados do Instituto de Pesquisas Econômicas Aplicadas (IPEA) revelaram que no biênio 2004/2005, nas rodovias federais, os atropelamentos com morte ocuparam o segundo lugar no ranking de mortalidade por acidente.

A cada 34 atropelamentos, ocorreram 10 mortes. Cerca de 4 mil atropelamentos/ano, um a cada duas horas, aproximadamente.
<http://www.ipea.gov.br>. Acesso em: 6 jan. 2009.

De acordo com os dados, se for escolhido aleatoriamente para investigação mais detalhada um dos atropelamentos ocorridos no biênio 2004/2005, a probabilidade de ter sido um atropelamento sem morte é

- A 2/5
- B 2/17
- C 12/17
- D 3/5
- E 5/17

QUESTÃO 07

(ENEM 2009 CANCELADO) Em um determinado semáforo, as luzes completam um ciclo de verde, amarelo e vermelho em 1 minuto e 40 segundos. Desse tempo, 25 segundos são para a luz verde, 5 segundos para a amarela e 70 segundos para a vermelha. Ao se aproximar do semáforo, um veículo tem uma determinada probabilidade de encontrá-lo na luz verde, amarela ou vermelha. Se essa aproximação for de forma aleatória, pode-se admitir que a probabilidade de encontrá-lo com uma dessas cores é diretamente proporcional ao tempo em que cada uma delas fica acesa.

Suponha que um motorista passa por um semáforo duas vezes ao dia, de maneira aleatória e independente uma da outra. Qual é a probabilidade de o motorista encontrar esse semáforo com a luz verde acesa nas duas vezes em que passar?

- A 1/9
- B 1/2
- C 1/16
- D 1/25
- E 1/3

QUESTÃO 08

(ENEM 2009 CANCELADO) Em um concurso realizado em uma lanchonete, apresentavam-se ao consumidor quatro cartas voltadas para baixo, em ordem aleatória, diferenciadas pelos algarismos 0, 1, 2 e 5. O consumidor selecionava uma nova ordem ainda com as cartas voltadas para baixo. Ao desvirá-las, verificava-se quais delas continham o algarismo na posição correta dos algarismos do número 12,50 que era o valor, em reais, do trio-promoção. Para cada algarismo na posição acertada, ganhava-se R\$ 1,00 de desconto. Por exemplo, se a segunda carta da sequência escolhida pelo consumidor fosse 2 e a terceira fosse 5, ele ganharia R\$ 2,00 de desconto.

Qual é a probabilidade de um consumidor **não** ganhar qualquer desconto?

- A 1/2
- B 1/3
- C 3/24
- D 1/24
- E 1/4

QUESTÃO 09

(ENEM 2009 CANCELADO) Um casal decidiu que vai ter 3 filhos. Contudo, quer exatamente 2 filhos homens e decide que, se a probabilidade fosse inferior a 50%, iria procurar uma clínica para fazer um tratamento específico para garantir que teria os dois filhos homens.

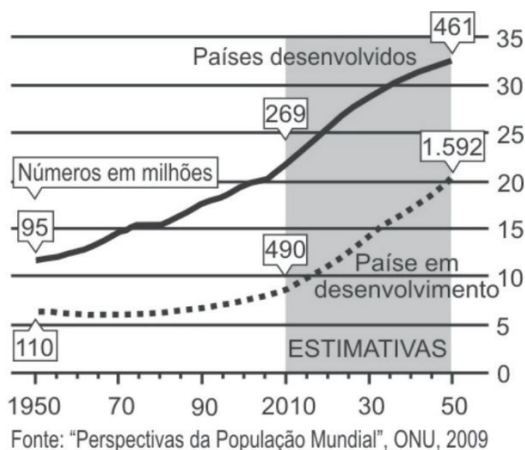
Após os cálculos, o casal concluiu que a probabilidade de ter exatamente 2 filhos homens é

- A 7,5%, assim ele não precisará fazer um tratamento.
- B 25%, assim ele precisará procurar uma clínica para fazer um tratamento.
- C 66,7%, assim ele não precisará fazer um tratamento.
- D 50%, assim ele não precisará fazer um tratamento.
- E 37,5%, assim ele precisará procurar uma clínica para fazer um tratamento.



QUESTÃO 10

(ENEM 2009 1ª APLICAÇÃO) A população mundial está ficando mais velha, os índices de natalidade diminuíram e a expectativa de vida aumentou. No gráfico seguinte, são apresentados dados obtidos por pesquisa realizada pela Organização das Nações Unidas (ONU), a respeito da quantidade de pessoas com 60 anos ou mais em todo o mundo. Os números da coluna da direita representam as faixas percentuais. Por exemplo, em 1950 havia 95 milhões de pessoas com 60 anos ou mais nos países desenvolvidos, número entre 10% e 15% da população total nos países desenvolvidos.



Em 2050, a probabilidade de se escolher, aleatoriamente, uma pessoa com 60 anos ou mais de idade, na população dos países desenvolvidos, será um número mais próximo de

- A 7/20
- B 8/25
- C 1/2
- D 1/5
- E 3/25

QUESTÃO 11

(ENEM 2009 1ª APLICAÇÃO) O controle de qualidade de uma empresa fabricante de telefones celulares aponta que a probabilidade de um aparelho de determinado modelo apresentar defeito de fabricação é de 0,2%. Se uma loja acaba de vender 4 aparelhos desse modelo para um cliente, qual é a probabilidade de esse cliente sair da loja com exatamente dois aparelhos defeituosos?

- A $4 \times (0,2\%)$.
- B $6 \times (0,2\%) \times (99,8\%)$.
- C $2 \times (0,2\%)^4$.
- D $4 \times (0,2\%)^2$.
- E $6 \times (0,2\%)^2 \times (99,8\%)^2$.

QUESTÃO 12

(ENEM 2009 1ª APLICAÇÃO) Um médico está estudando um novo medicamento que combate um tipo de câncer em estágios avançados. Porém, devido ao forte efeito dos seus componentes, a cada dose administrada há uma chance de 10% de que o paciente sofra algum dos efeitos colaterais observados no estudo, tais como dores de cabeça, vômitos

ou mesmo agravamento dos sintomas da doença. O médico oferece tratamentos compostos por 3, 4, 6, 8 ou 10 doses do medicamento, de acordo com o risco que o paciente pretende assumir.

Se um paciente considera aceitável um risco de até 35% de chances de que ocorra algum dos efeitos colaterais durante o tratamento, qual é o maior número admissível de doses para esse paciente?

- A 10 doses.
- B 8 doses.
- C 3 doses.
- D 6 doses.
- E 4 doses.

QUESTÃO 13

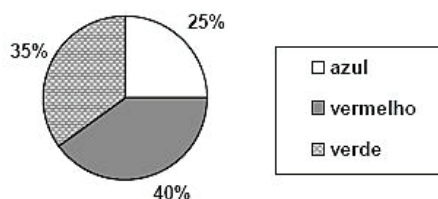
(ENEM 2009 2ª APLICAÇÃO) Ao retornarem de avião à sua cidade, 100 pessoas foram infectadas por um vírus contagioso exatamente na hora que desembarcaram na cidade. Anteriormente a esse episódio de contágio, esse vírus não existia na cidade, e sabe-se que ele é transmitido em 50% das vezes que duas pessoas trocam apertos de mão. Entretanto, o contágio só pode ocorrer entre o momento de contágio e 24 horas após esse momento.

Considerando que as informações do texto estão corretas e que, em média, as pessoas na referida cidade trocam apertos de mão, em média, 3 vezes por dia, é correto concluir que

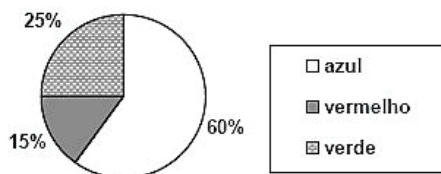
- A há uma grande probabilidade de que o número de contaminados na cidade diminua nos próximos dias.
- B há uma grande probabilidade de que o número de contaminados na cidade aumente nos próximos dias.
- C há uma grande probabilidade de que o número de contaminados permaneça inalterado nos próximos dias.
- D campanhas para diminuir o número médio de apertos de mão na cidade para meio por dia não seriam efetivas para fazer que o número de infectados caia nos próximos dias.
- E se o tempo de contágio do vírus fosse de 20 horas em vez de 24 horas, não deverá haver o aumento de contágio nos próximos dias.

QUESTÃO 14

(ENEM 2009 2ª APLICAÇÃO) Uma empresa constrói peças para jogos no formato de cubos e cilindros, nas cores vermelha, azul e verde. No final do dia, o encarregado de fazer o controle do estoque coloca todas as peças prontas sobre um balcão e começa a fazer o controle. Num dia em que a empresa produziu um total de 80 peças, das quais apenas 25 eram cilindros, o controlador de estoques elaborou os seguintes gráficos.



Peças em forma de cilindros.



Peças em forma de cubos.

Se o controlador de estoque retirar ao acaso uma das peças do balcão, a probabilidade de essa peça ser vermelha e na forma de cilindro é igual a

- A 1/8
- B 32/80
- C 5/22
- D 25/80
- E 1/2

QUESTÃO 15

(ENEM 2009 2ª APLICAÇÃO) A tabela seguinte mostra a frequência de acidentes com vítimas fatais envolvendo motocicletas no Distrito Federal, durante o ano de 2007, de acordo com o dia da semana e o horário.

Horário	DIA DA SEMANA							Total
	Seg	Ter	Qua	Qui	Sex	Sáb	Dom	
0 - 5	2	1	1	-	2	7	8	21
6 - 11	7	5	2	2	2	3	-	21
12 - 17	5	1	4	5	6	7	5	33
18 - 23	4	6	5	6	3	9	13	46
Total	18	13	12	13	13	26	26	121

Em relação ao total de acidentes, a razão entre a probabilidade de ocorrência de um acidente com vítima fatal em uma sexta-feira ou num sábado e, essa mesma probabilidade para uma terça-feira, é igual a

- A 3.
- B 1/2
- C 2.
- D 1.
- E 1/3

QUESTÃO 16

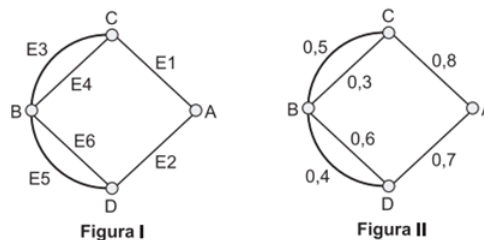
(ENEM 2009 2ª APLICAÇÃO) Os alunos de uma escola fizeram uma rifa para arrecadação de fundos para uma festa junina. Os 1.000 bilhetes da rifa foram numerados com os múltiplos de 3, iniciando-se com o número 3. Serão sorteados, aleatoriamente, 3 números, correspondendo ao primeiro, ao segundo e ao terceiro prêmios.

A probabilidade de o número do primeiro bilhete sorteado ser par e maior que 2.991 é igual a

- A 0,003.
- B 0,002.
- C 0,005.
- D 0,004.
- E 0,001.

QUESTÃO 17

(ENEM 2010 1ª APLICAÇÃO) A figura I abaixo mostra um esquema das principais vias que interligam a cidade A com a cidade B. Cada número indicado na figura II representa a probabilidade de pegar um engarrafamento quando se passa na via indicada. Assim, há uma probabilidade de 30% de se pegar engarrafamento no deslocamento do ponto C ao ponto B, passando pela estrada E4, e de 50%, quando se passa por E3. Essas probabilidades são independentes umas das outras.



Paula deseja se deslocar da cidade A para a cidade B usando exatamente duas das vias indicadas, percorrendo um trajeto com a menor probabilidade de engarrafamento possível.

O melhor trajeto para Paula é

- A E2E4.
- B E2E6.
- C E2E5.
- D E1E4.
- E E1E3.

QUESTÃO 18

(ENEM 2010 1ª APLICAÇÃO) O diretor de um colégio leu numa revista que os pés das mulheres estavam aumentando. Há alguns anos, a média do tamanho dos calçados das mulheres era de 35,5 e, hoje, é de 37,0. Embora não fosse uma informação científica, ele ficou curioso e fez uma pesquisa com as funcionárias do seu colégio, obtendo o quadro a seguir:

TAMANHO DOS CALÇADOS	NÚMERO DE FUNCIONÁRIAS
39,0	1
38,0	10
37,0	3
36,0	5
35,0	6

Escolhendo uma funcionária ao acaso e sabendo que ela tem calçado maior que 36,0 a probabilidade de ela calçar 38,0 é

- A 5/14
- B 1/5
- C 5/7
- D 2/5
- E 1/3

QUESTÃO 19

(ENEM 2010 2ª APLICAÇÃO) Os estilos musicais preferidos pelos jovens brasileiros são o samba, o rock e a MPB. O quadro a seguir registra o resultado de uma pesquisa



relativa à preferência musical de um grupo de 1 000 alunos de uma escola. Alguns alunos disseram não ter preferência por nenhum desses três estilos.

preferência musical	rock	samba	MPB	rock e samba
número de alunos	200	180	200	70
preferência musical	rock e MPB	samba e MPB	rock, samba e MPB	
número de alunos	60	50	20	

Se for selecionado ao acaso um estudante no grupo pesquisado, qual é a probabilidade de ele preferir somente MPB?

- A 11%
- B 20%
- C 2%
- D 6%
- E 5%

QUESTÃO 20

(ENEM 2010 2ª APLICAÇÃO) Em uma reserva florestal existem 263 espécies de peixes, 122 espécies de mamíferos, 93 espécies de répteis, 1 132 espécies de borboletas e 656 espécies de aves.
http://www.wwf.org.br. Acesso em: 23 abr. 2010 (adaptado).

Se uma espécie animal for capturada ao acaso, qual a probabilidade de ser uma borboleta?

- A 56,52%
- B 49,96%
- C 63,31%
- D 43,27%
- E 60,18%

QUESTÃO 21

(ENEM 2010 2ª APLICAÇÃO) Um experimento foi conduzido com o objetivo de avaliar o poder germinativo de duas culturas de cebola, conforme a tabela.

Germinação de sementes de duas culturas de cebola			
Culturas	Germinação		TOTAL
	Germinaram	Não germinaram	
A	392	8	400
B	381	19	400
TOTAL	773	27	800

BUSSAB, W. O.; MORETIN, L.G. Estatística para as ciências agrárias e biológicas.

Desejando-se fazer uma avaliação do poder germinativo de uma das culturas de cebola, uma amostra foi retirada ao acaso. Sabendo-se que a amostra escolhida germinou, a probabilidade de essa amostra pertencer à Cultura A é de

- A 8/27
- B 392/773
- C 19/27
- D 381/773
- E 392/800

QUESTÃO 22

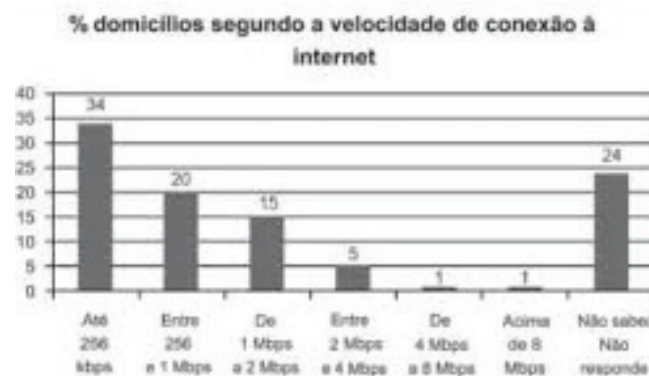
(ENEM 2010 2ª APLICAÇÃO) Para verificar e analisar o grau de eficiência de teste que poderia ajudar no retrocesso de uma doença numa comunidade, uma equipe de biólogos aplicou-o em um grupo de 500 ratos, para detectar a presença dessa doença. Porém, o teste não é totalmente eficaz, podendo existir ratos saudáveis com resultado positivo e ratos doentes com resultado negativo. Sabe-se, ainda, que 100 ratos possuem a doença, 20 ratos são saudáveis com resultado positivo e 40 ratos são doentes com resultado negativo.

Um rato foi escolhido ao acaso, e verificou-se que o seu resultado deu negativo. A probabilidade de esse rato ser saudável é

- A 19/21
- B 21/25
- C 19/25
- D 1/5
- E 4/5

QUESTÃO 23

(ENEM 2011 1ª APLICAÇÃO) O gráfico mostra a velocidade de conexão à internet utilizada em domicílios no Brasil. Esses dados são resultado da mais recente pesquisa, de 2009, realizada pelo Comitê Gestor da Internet (CGI).



Escolhendo-se, aleatoriamente, um domicílio pesquisado, qual a chance de haver banda larga de conexão pelo menos 1 Mbps neste domicílio?

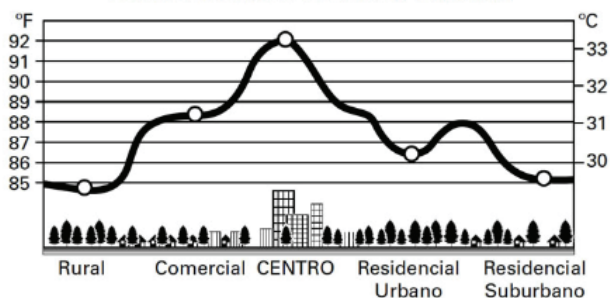
- A 0,42
- B 0,15
- C 0,45
- D 0,30
- E 0,22

QUESTÃO 24

(ENEM 2011 1ª APLICAÇÃO) Rafael mora no Centro de uma cidade e decidiu se mudar, por recomendações médicas, para uma das regiões: Rural, Comercial, Residencial Urbano ou Residencial Suburbano. A principal recomendação médica foi com as temperaturas das "ilhas de calor" da região, que deveriam ser inferiores a 31ª C. Tais temperaturas são apresentadas no gráfico:



PERFIL DA ILHA DE CALOR URBANA



Escolhendo, aleatoriamente, umas das outras regiões para morar, a probabilidade de ele escolher uma região que seja adequada às recomendações médicas é

- A 1/4
- B 2/5
- C 1/5
- D 3/4
- E 3/5

QUESTÃO 25

(ENEM 2011 1ª APLICAÇÃO) Todo o país passa pela primeira fase de campanha de vacinação contra a gripe suína (H1N1). Segundo um médico infectologista do Instituto Emílio Ribas, de São Paulo, a imunização “deve mudar”, no país, a história da epidemia. Com a vacina, de acordo com ele, o Brasil tem a chance de barrar uma tendência do crescimento da doença, que já matou 17 mil no mundo. A tabela apresenta dados específicos de um único posto de vacinação.

CAMPANHA DE VACINAÇÃO CONTRA A GRIPE SUÍNA		
Datas de vacinação	Público-alvo	Quantidade de pessoas vacinadas
8 a 19 de março	Trabalhadores da saúde e indígenas	42
22 de março a 2 de abril	Portadores de doenças crônicas	22
5 a 23 de abril	Adultos saudáveis entre 20 e 29 anos	56
24 de abril a 7 de maio	População com mais de 60 anos	30
10 a 21 de maio	Adultos saudáveis entre 30 e 39 anos	50

http://img.terra.com.br. Acesso em: 26 abr. 2010 (adaptado).

Escolhendo-se aleatoriamente uma pessoa atendida nesse posto de vacinação, a probabilidade de ela ser portadora de doença crônica é

- A 12%
- B 8%
- C 9%
- D 11%
- E 22%

QUESTÃO 26

(ENEM 2011 1ª APLICAÇÃO) Em um jogo disputado em uma mesa de sinuca, há 16 bolas: 1 branca e 15 coloridas, as quais, de acordo com a coloração, valem de 1 a 15 pontos (um valor para cada bola colorida).

O jogador acerta o taco na bola branca de forma que acerte as outras, com o objetivo de acertar duas das quinze bolas em quaisquer caçapas. Os valores dessas duas bolas são somados e devem resultar em um valor escolhido pelo jogador antes do início da jogada.

Arthur, Bernardo e Caio escolhem os números 12, 17 e 22 como sendo resultados de suas respectivas somas.

Com essa escolha, quem tem a maior probabilidade de ganhar o jogo é

- A Arthur, pois a soma que escolheu é menor.
- B Caio, pois há 10 possibilidades de compor a soma escolhida por ele, contra 5 possibilidades para a escolha de Arthur e 8 possibilidades para a escolha de Bernardo.
- C Bernardo, pois há 7 possibilidades de compor a soma escolhida por ele, contra 5 possibilidades para a escolha de Arthur e 4 possibilidades para a escolha de Caio.
- D Bernardo, pois há 7 possibilidades de compor a soma escolhida por ele, contra 4 possibilidades para a escolha de Arthur e 4 possibilidades para a escolha de Caio.
- E Caio, pois a soma que escolheu é a maior.

QUESTÃO 27

(ENEM 2011 2ª APLICAÇÃO) José e Antônio discutiam qual dos dois teria mais chances de acertar na loteria. José tinha gasto R\$ 14,00 numa aposta de 7 números na Mega-Sena, enquanto Antônio gastou R\$ 15,00 em três apostas da quina, não repetindo números em suas apostas. Na discussão, eles consideravam a chance de José acertar a quadra da Mega-Sena e de Antônio acertar o terno da Quina.

PROBABILIDADE DE ACERTO NA MEGA-SENA				
Quantidade N° Jogados	Valor de apostas (R\$)	Probabilidade de acerto (1 em ...)		
		Sena	Quina	Quadra
6	2,00	50 063 860	154 518	2332
7	14,00	7 151 980	44981	1038
8	56,00	1 787 995	17192	539
9	168,00	595 998	7 791	312
10	420,00	238 399	3 973	195
11	924,00	108 363	2 211	129
12	1 848,00	54 182	1 317	90
13	3 432,00	29 175	828	65
14	6 006,00	16 671	544	48
15	10 010,00	10 003	370	37

PROBABILIDADE DE ACERTO NA QUINA				
Quantidade N° Jogados	Valor de apostas (R\$)	Probabilidade de acerto (1 em ...)		
		Quina	Quadra	Terno
5	0,50	24 040 016	64 106	866
6	2,00	4 006 669	21 657	445
7	5,00	1 144 762	9 409	261

Nessas condições, a razão entre as probabilidades de acerto de José e de Antônio nos menores prêmios de cada loteria é

- A 261/3114, o que mostra que Antônio tem mais chances de acertar.



- B 1038/261, o que mostra que José tem mais chances de acertar.
- C 3114/261, o que mostra que José tem mais chances de acertar.
- D 783/1038, o que mostra que Antônio tem mais chances de acertar.
- E 3114/261, o que mostra que Antônio tem mais chances de acertar.

QUESTÃO 28

(ENEM 2011 2ª APLICAÇÃO) Observe os dados da tabela seguinte, sobre o número de ocorrências de acidente de trabalho no Brasil em 2004.

Quantidade de acidentes de trabalho registrados no Brasil por sexo, segundo os grupos de idades em 2004			
Grupos de Idade	Total	Masculino	Feminino
Até 19 anos	17 027	14 334	2 693
20 a 24 anos	86 834	70 907	15 927
25 a 29 anos	88 463	69 561	18 902
30 a 34 anos	72 943	56 236	16 707
35 a 39 anos	63 082	47 675	15 407
40 a 44 anos	52 003	38 440	13 563
45 a 49 anos	38 400	28 294	10 106
50 a 54 anos	23 685	17 398	6 287
55 a 59 anos	11 219	8 486	2 733
60 a 64 anos	3 860	3 200	660
65 a 69 anos	964	803	161
70 anos e mais	344	274	70
TOTAL	458 824	355 608	103 216

NOTA: Os dados são preliminares, estando sujeitos a correções. Revista Proteção. Abr. 2010. <http://www.protecao.com.br> (adaptado).

O risco de acidente de trabalho de grupos de estudo é o resultado da probabilidade experimental calculada a partir de dados estatísticos. Assim sendo, considerando o disposto na tabela, qual o risco aproximado de um acidentado ser um homem com idade entre 25 e 29 anos?

- A 18%
- B 20%
- C 78%
- D 79%
- E 15%

QUESTÃO 29

(ENEM 2012 1ª APLICAÇÃO) Em um jogo há duas urnas com 10 bolas de mesmo tamanho em cada urna. A tabela a seguir indica as quantidades de bolas de cada cor em cada urna.

Cor	Urna 1	Urna 2
Amarela	4	0
Azul	3	1
Branca	2	2
Verde	1	3
Vermelha	0	4

Uma jogada consiste em:

1. o jogador apresenta um palpite sobre a cor da bola que será retirada por ele da urna 2;

2. ele retira, aleatoriamente, uma bola da urna 1 e a coloca na urna 2, misturando-a com as que lá estão;
3. em seguida ele retira, também aleatoriamente, uma bola da urna 2;
4. se a cor da última bola retirada for a mesma do palpite inicial, ele ganha o jogo.

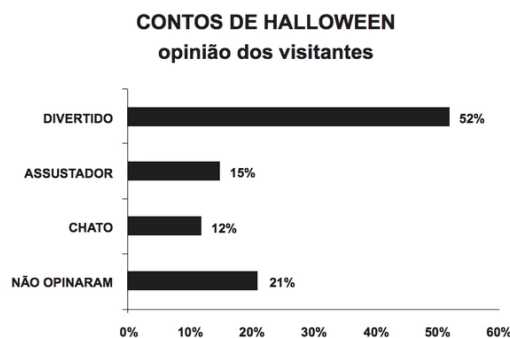
Qual cor deve ser escolhida pelo jogador para que ele tenha a maior probabilidade de ganhar?

- A Branca.
- B Amarela.
- C Verde.
- D Vermelha.
- E Azul.

QUESTÃO 30

(ENEM 2012 1ª APLICAÇÃO) Em um *blog* de variedades, músicas, mantras e informações diversas, foram postados "Contos de Halloween". Após a leitura, os visitantes poderiam opinar, assinalando suas reações em: "Divertido", "Assustador" ou "Chato". Ao final de uma semana, o *blog* registrou que 500 visitantes distintos acessaram esta postagem.

O gráfico a seguir apresenta o resultado da enquete.



O administrador do *blog* irá sortear um livro entre os visitantes que opinaram na postagem "Contos de Halloween".

Sabendo que nenhum visitante votou mais de uma vez, a probabilidade de uma pessoa escolhida ao acaso entre as que opinaram ter assinalado que o conto "Contos de Halloween" é "Chato" é mais aproximada por

- A 0,15
- B 0,14
- C 0,12
- D 0,18
- E 0,09

QUESTÃO 31

(ENEM 2012 1ª APLICAÇÃO) José, Paulo e Antônio estão jogando dados não viciados, nos quais, em cada uma das seis faces, há um número de 1 a 6. Cada um deles jogará dois dados simultaneamente. José acredita que, após jogar seus dados, os números das faces voltadas para cima lhe darão uma soma igual a 7. Já Paulo acredita que sua soma será igual a 4 e Antônio acredita que sua soma será igual a 8.

Com essa escolha, quem tem a maior probabilidade de acertar sua respectiva soma é



- A Paulo, já que sua soma é a menor de todas.
- B José e Antônio, já que há 6 possibilidades tanto para a escolha de José quanto para a escolha de Antônio, e há apenas 4 possibilidades para a escolha de Paulo.
- C Antônio, já que sua soma é a maior de todas as escolhidas.
- D José, já que há 6 possibilidades para formar sua soma, 5 possibilidades para formar a soma de Antônio e apenas 3 possibilidades para formar a soma de Paulo.
- E José e Antônio, já que há 3 possibilidades tanto para a escolha de José quanto para a escolha de Antônio, e há apenas 2 possibilidades para a escolha de Paulo.

QUESTÃO 32

(ENEM 2012 2ª APLICAÇÃO) Uma coleta de dados em mais de 5 mil sites da internet apresentou os conteúdos de interesse de cada faixa etária. Na tabela a seguir estão os dados obtidos para a faixa etária de 0 a 17 anos.

Preferências	Porcentagem
Música	22,5
Blogs	15,0
Serviços Web*	10,2
Games	10,0
Horóscopo	9,0
Games on-line	7,4
Educação **	6,5
Teen	4,0
Compras	3,4
Outras	12,0

* Serviços web: aplicativos on-line, emoticons, mensagens para redes sociais, entre outros.

** Sites sobre vestibular, ENEM, páginas com material de pesquisa escolar.

Considere que esses dados refletem os interesses dos brasileiros desta faixa etária.

www.navegg.com. Acesso em: 12 nov. 2011(adaptado).

Selecionando, ao acaso, uma pessoa desta faixa etária, a probabilidade de que ela não tenha preferência por horóscopo é

- A 0,10
- B 0,09
- C 0,79
- D 0,91
- E 0,11

QUESTÃO 33

(ENEM 2013 1ª APLICAÇÃO) Numa escola com 1 200 alunos foi realizada uma pesquisa sobre o conhecimento desses em duas línguas estrangeiras, inglês e espanhol.

Nessa pesquisa constatou-se que 600 alunos falam inglês, 500 falam espanhol e 300 não falam qualquer um desses idiomas.

Escolhendo-se um aluno dessa escola ao acaso e sabendo-se que ele não fala inglês, qual a probabilidade de que esse aluno fale espanhol?

- A 5/14
- B 1/2

- C 5/8
- D 1/4
- E 5/6

QUESTÃO 34

(ENEM 2013 1ª APLICAÇÃO) Considere o seguinte jogo de apostas:

Numa cartela com 60 números disponíveis, um apostador escolhe de 6 a 10 números. Dentre os números disponíveis, serão sorteados apenas 6. O apostador será premiado caso os 6 números sorteados estejam entre os números escolhidos por ele numa mesma cartela.

O quadro apresenta o preço de cada cartela, de acordo com a quantidade de números escolhidos.

Quantidade de números escolhidos em uma cartela	Preço da cartela (R\$)
6	2,00
7	12,00
8	40,00
9	125,00
10	250,00

Cinco apostadores, cada um com R\$ 500,00 para apostar, fizeram as seguintes opções:

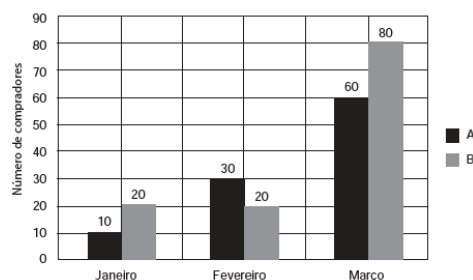
- Arthur: 250 cartelas com 6 números escolhidos;
- Bruno: 41 cartelas com 7 números escolhidos e 4 cartelas com 6 números escolhidos;
- Caio: 12 cartelas com 8 números escolhidos e 10 cartelas com 6 números escolhidos;
- Douglas: 4 cartelas com 9 números escolhidos;
- Eduardo: 2 cartelas com 10 números escolhidos.

Os dois apostadores com maiores probabilidades de serem premiados são

- A Bruno e Caio.
- B Arthur e Bruno.
- C Arthur e Eduardo.
- D Douglas e Eduardo.
- E Caio e Eduardo.

QUESTÃO 35

(ENEM 2013 1ª APLICAÇÃO) Uma loja acompanhou o número de compradores de dois produtos, A e B, durante os meses de janeiro, fevereiro e março de 2012. Com isso, obteve este gráfico:





A loja sorteará um brinde entre os compradores do produto A e outro brinde entre os compradores do produto B.

Qual a probabilidade de que os dois sorteados tenham feito suas compras em fevereiro de 2012?

- A 7/15
- B 6/25
- C 3/242
- D 5/22
- E 1/20

QUESTÃO 36

(ENEM 2013 1ª APLICAÇÃO) Uma fábrica de parafusos possui duas máquinas, I e II, para a produção de certo tipo de parafuso.

Em setembro, a máquina I produziu 54/100 do total de parafusos produzidos pela fábrica. Dos parafusos produzidos por essa máquina, 25/1000 eram defeituosos. Por sua vez, 38/1000 dos parafusos produzidos no mesmo mês pela máquina II eram defeituosos.

O desempenho conjunto das duas máquinas é classificado conforme o quadro, em que P indica a probabilidade de um parafuso escolhido ao acaso ser defeituoso.

$0 \leq P < \frac{2}{100}$	Excelente
$\frac{2}{100} \leq P < \frac{4}{100}$	Bom
$\frac{4}{100} \leq P < \frac{6}{100}$	Regular
$\frac{6}{100} \leq P < \frac{8}{100}$	Ruim
$\frac{8}{100} \leq P \leq 1$	Péssimo

O desempenho conjunto dessas máquinas, em setembro, pode ser classificado como

- A ruim.
- B péssimo.
- C excelente.
- D regular.
- E bom.

QUESTÃO 37

(ENEM 2013 2ª APLICAÇÃO) Uma fábrica possui duas máquinas que produzem o mesmo tipo de peça. Diariamente a máquina M produz 2 000 peças e a máquina N produz 3 000 peças. Segundo o controle de qualidade da fábrica, sabe-se que 60 peças, das 2 000 produzidas pela máquina M, apresentam algum tipo de defeito, enquanto que 120 peças, das 3 000 produzidas pela máquina N, também apresentam defeitos. Um trabalhador da fábrica escolhe ao acaso uma peça, e esta é defeituosa.

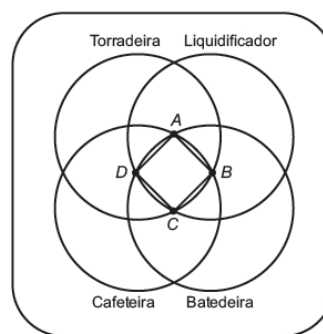
Nessas condições, qual a probabilidade de que a peça defeituosa escolhida tenha sido produzida pela máquina M?

- A 1/3
- B 1/25

- C 3/100
- D 2/3
- E 3/7

QUESTÃO 38

(ENEM 2013 2ª APLICAÇÃO) Ao realizar uma compra em uma loja de departamentos, o cliente tem o direito de participar de um jogo de dardo, no qual, de acordo com a região do alvo acertada, ele pode ganhar um ou mais prêmios. Caso o cliente acerte fora de todos os quatro círculos, ele terá o direito de repetir a jogada, até que acerte uma região que dê o direito de ganhar pelo menos um prêmio. O alvo é o apresentado na figura:



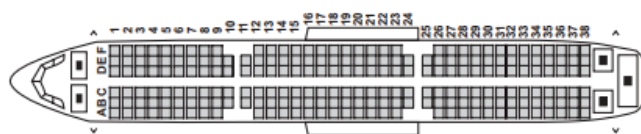
Ao acertar uma das regiões do alvo, ele terá direito ao(s) prêmio(s) indicado(s) nesta região. Há ainda o prêmio extra, caso o cliente acerte o dardo no quadrado ABCD.

João Maurício fez uma compra nessa loja e teve o direito de jogar o dardo. A quantidade de prêmios que João Maurício tem a menor probabilidade de ganhar, sabendo que ele jogou o dardo aleatoriamente, é exatamente:

- A 1.
- B 4.
- C 2.
- D 3.
- E 5.

QUESTÃO 39

(ENEM 2013 2ª APLICAÇÃO) Uma empresa aérea lança uma promoção de final de semana para um voo comercial. Por esse motivo, o cliente não pode fazer reservas e as poltronas serão sorteadas aleatoriamente. A figura mostra a posição dos assentos no avião:



Avião com 38 fileiras de poltronas.

Por ter pavor de sentar entre duas pessoas, um passageiro decide que só viajará se a chance de pegar uma dessas poltronas for inferior a 30%.

Avaliando a figura, o passageiro desiste da viagem, porque a chance de ele ser sorteado com uma poltrona entre duas pessoas é mais aproximada de



- A 68%.
- B 33%.
- C 31%.
- D 69%.
- E 35%.

QUESTÃO 40

(ENEM 2014 1ª APLICAÇÃO) Para analisar o desempenho de um método diagnóstico, realizam-se estudos em populações contendo pacientes saudáveis e doentes. Quatro situações distintas podem acontecer nesse contexto de teste:

1. Paciente TEM a doença e o resultado do teste é POSITIVO.
2. Paciente TEM a doença e o resultado do teste é NEGATIVO.
3. Paciente NÃO TEM a doença e o resultado do teste é POSITIVO.
4. Paciente NÃO TEM a doença e o resultado do teste é NEGATIVO.

Um índice de desempenho para avaliação de um teste diagnóstico é a sensibilidade, definida como a probabilidade de o resultado do teste ser POSITIVO se o paciente estiver com a doença.

O quadro refere-se a um teste diagnóstico para a doença A, aplicado em uma amostra composta por duzentos indivíduos.

Resultado do teste	Doença A	
	Presente	Ausente
Positivo	95	15
Negativo	5	85

BENSEÑOR, I.M.; LOTUFO, P.A. *Epidemiologia: abordagem prática.*

Conforme o quadro do teste proposto, a sensibilidade dele é de

- A 85,0%.
- B 95,0%.
- C 86,3%.
- D 47,5%
- E 94,4%.

QUESTÃO 41

(ENEM 2014 1ª APLICAÇÃO) O psicólogo de uma empresa aplica um teste para analisar a aptidão de um candidato a determinado cargo. O teste consiste em uma série de perguntas cujas respostas devem ser verdadeiro ou falso e termina quando o psicólogo fizer a décima pergunta ou quando o candidato der a segunda resposta errada. Com base em testes anteriores, o psicólogo sabe que a probabilidade de o candidato errar uma resposta é 0,20.

A probabilidade de o teste terminar na quinta pergunta é

- A 0,24000.
- B 0,40960.
- C 0,08192.
- D 0,49152.
- E 0,02048.

QUESTÃO 42

(ENEM 2014 2ª APLICAÇÃO) A probabilidade de um empregado permanecer em uma dada empresa particular por 10 anos ou mais é de $1/6$. Um homem e uma mulher começam a trabalhar nessa companhia no mesmo dia. Suponha que não haja nenhuma relação entre o trabalho dele e o dela, de modo que seus tempos de permanência na firma são independentes entre si.

A probabilidade de ambos, homem e mulher, permanecerem nessa empresa por menos de 10 anos é de

- A $60/36$
- B $25/36$
- C $12/36$
- D $1/36$
- E $24/36$

QUESTÃO 43

(ENEM 2014 2ª APLICAÇÃO) O número de frutos de uma determinada espécie de planta se distribui de acordo com as probabilidades apresentadas no quadro.

Número de frutos	Probabilidade
0	0,65
1	0,15
2	0,13
3	0,03
4	0,03
5 ou mais	0,01

A probabilidade de que, em menos, dois frutos é igual a

- A 16%.
- B 13%.
- C 3%.
- D 7%.
- E 20%

QUESTÃO 44

(ENEM 2014 3ª APLICAÇÃO) Até o fim do Império, as mulheres eram tolhidas em seu acesso à escola. Já na década de 1930, o número de meninas e meninos nas instituições de ensino fica igual. Hoje, as mulheres são maioria em todos os níveis de ensino — do fundamental à pós-graduação. Veja a tabela a seguir:

Pessoas com 10 anos ou mais, segundo o sexo e os grupos de anos de estudos, em %					
Anos de estudo	Menos de 1	1 a 3	4 a 7	8 a 10	11 ou mais
Homens	10,3	13,5	29,1	17,4	29,6
Mulheres	10,0	11,8	27,4	17,1	33,4

Considerando os dados apresentados tem-se que, escolhida ao acaso uma brasileira com mais de 10 anos, a probabilidade de que ela possua oito anos ou mais de estudos é igual a

- A 17,1%.
- B 29,6%.



- C 63,0%.
- D 34,5%.
- E 50,5%.

QUESTÃO 45

(ENEM 2015 1ª APLICAÇÃO) Em uma central de atendimento, cem pessoas receberam senhas numeradas de 1 até 100. Uma das senhas é sorteada ao acaso.

Qual é a probabilidade de a senha sorteada ser um número de 1 a 20?

- A 20/100
- B 21/100
- C 80/100
- D 1/100
- E 19/100

QUESTÃO 46

(ENEM 2015 1ª APLICAÇÃO) Uma competição esportiva envolveu 20 equipes com 10 atletas cada. Uma denúncia à organização dizia que um dos atletas havia utilizado substância proibida. Os organizadores, então, decidiram fazer um exame antidoping. Foram propostos três modos diferentes para escolher os atletas que irão realizá-lo:

Modo I: sortear três atletas dentre todos os participantes;
Modo II: sortear primeiro uma das equipes e, desta, sortear três atletas;

Modo III: sortear primeiro três equipes e, então, sortear um atleta de cada uma dessas três equipes.

Considere que todos os atletas têm igual probabilidade de serem sorteados e que $P(I)$, $P(II)$ e $P(III)$ sejam as probabilidades de o atleta que utilizou a substância proibida seja um dos escolhidos para o exame no caso do sorteio ser feito pelo modo I, II ou III.

Comparando-se essas probabilidades, obtém-se

- A $P(I) < P(II) = P(III)$
- B $P(I) < P(III) < P(II)$
- C $P(I) = P(II) = P(III)$
- D $P(II) < P(I) < P(III)$
- E $P(I) = P(II) < P(III)$

QUESTÃO 47

(ENEM 2015 1ª APLICAÇÃO) Em uma escola, a probabilidade de um aluno compreender e falar inglês é de 30%. Três alunos dessa escola, que estão em fase final de seleção de intercâmbio, aguardam, em uma sala, serem chamados para uma entrevista. Mas, ao invés de chamá-los um a um, o entrevistador entra na sala e faz, oralmente, uma pergunta em inglês que pode ser respondida por qualquer um dos alunos.

A probabilidade de o entrevistador ser entendido e ter sua pergunta oralmente respondida em inglês é

- A 30,0%
- B 44,1%
- C 23,7%
- D 65,7%
- E 90,0%

QUESTÃO 48

(ENEM 2015 2ª APLICAÇÃO) Um protocolo tem como objetivo firmar acordos e discussões internacionais para conjuntamente estabelecer metas de redução de emissão de gases de efeito estufa na atmosfera. O quadro mostra alguns dos países que assinaram o protocolo, organizados de acordo com o continente ao qual pertencem.

Países da América do Norte	Países da Ásia
Estados Unidos da América	China
Canadá	Índia
México	Japão

Em um dos acordos firmados, ao final do ano, dois dos países relacionados serão escolhidos aleatoriamente, para verificar se as metas de redução do protocolo estão sendo praticadas.

A probabilidade de o primeiro país escolhido pertencer à América do Norte e o segundo pertencer ao continente asiático é

- A 1/9
- B 3/10
- C 1/4
- D 1
- E 2/3

QUESTÃO 49

(ENEM 2015 2ª APLICAÇÃO) Um bairro residencial tem cinco mil moradores, dos quais mil são classificados como vegetarianos. Entre os vegetarianos, 40% são esportistas, enquanto que, entre os não vegetarianos, essa porcentagem cai para 20%.

Uma pessoa desse bairro, escolhida ao acaso, é esportista.

A probabilidade de ela ser vegetariana é

- A 5/6
- B 2/25
- C 1/3
- D 1/5
- E 1/4

QUESTÃO 50

(ENEM 2015 2ª APLICAÇÃO) No próximo final de semana, um grupo de alunos participará de uma aula de campo. Em dias chuvosos, aulas de campo não podem ser realizadas. A ideia é que essa aula seja no sábado, mas, se estiver chovendo no sábado, a aula será adiada para o domingo. Segundo a meteorologia, a probabilidade de chover no sábado é de 30% e a de chover no domingo é de 25%.

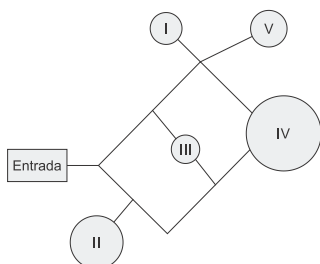
A probabilidade de que a aula de campo ocorra no domingo é de

- A 7,5%
- B 5,0%
- C 75,0%
- D 22,5%
- E 30,0%



QUESTÃO 51

(ENEM 2016 1ª APLICAÇÃO) Um adolescente vai a um parque de diversões tendo, prioritariamente, o desejo de ir a um brinquedo que se encontra na área IV, dentre as áreas I, II, III, IV e V existentes. O esquema ilustra o mapa do parque, com a localização da entrada, das cinco áreas com os brinquedos disponíveis e dos possíveis caminhos para se chegar a cada área. O adolescente não tem conhecimento do mapa do parque e decide ir caminhando da entrada até chegar à área IV.



Suponha que relativamente a cada ramificação, as opções existentes de percurso pelos caminhos apresentem iguais probabilidades de escolha, que a caminhada foi feita escolhendo ao acaso os caminhos existentes e que, ao tomar um caminho que chegue a uma área distinta da IV, o adolescente necessariamente passa por ela ou retorna.

Nessas condições, a probabilidade de ele chegar à área IV sem passar por outras áreas e sem retornar é igual a

- A 1/96
- B 1/64
- C 5/24
- D 1/4
- E 5/12

QUESTÃO 52

(ENEM 2016 2ª APLICAÇÃO) Uma caixa contém uma cédula de R\$ 5,00, uma de R\$ 20,00 e duas de R\$50,00 de modelos diferentes. Retira-se aleatoriamente uma cédula dessa caixa, anota-se o seu valor e devolve-se a cédula à caixa. Em seguida, repete-se o procedimento anterior.

A probabilidade de que a soma dos valores anotados seja pelo menos igual a R\$55,00 é

- A 1/2
- B 1/4
- C 3/4
- D 2/9
- E 5/9

QUESTÃO 53

(ENEM 2016 3ª APLICAÇÃO) Em um campeonato de futebol, a vitória vale 3 pontos, o empate 1 ponto e a derrota zero ponto. Ganha o campeonato o time que tiver maior número de pontos. Em caso de empate no total de pontos, os times são declarados vencedores. Os times R e S são os únicos com chance de ganhar o campeonato, pois ambos possuem 68 pontos e estão muito à frente dos outros times. No entanto, R e S não se enfrentarão na rodada final. Os especialistas em futebol arriscam as seguintes probabilidades para os jogos

da última rodada: R tem 80% de chance de ganhar e 15% de empatar S tem 40% de chance de ganhar e 20% de empatar.

Segundo as informações dos especialistas em futebol, qual é a probabilidade de o time R ser o único vencedor do campeonato?

- A 32%
- B 38%
- C 48%
- D 54%
- E 57%

QUESTÃO 54


(ENEM 2017 1ª APLICAÇÃO) Um morador de uma região metropolitana tem 50% de probabilidade de atrasar-se para o trabalho quando chove na região; caso não chova, sua probabilidade de atraso é de 25%. Para um determinado dia, o serviço de meteorologia estima em 30% a probabilidade da ocorrência de chuva nessa região.

Qual é a probabilidade de esse morador se atrasar para o serviço no dia para o qual foi dada a estimativa de chuva?

- A 0,075
- B 0,150
- C 0,325
- D 0,600
- E 0,800

QUESTÃO 55

(ENEM 2017 1ª APLICAÇÃO) A figura ilustra uma partida de Campo Minado, o jogo presente em praticamente todo computador pessoal. Quatro quadrados em um tabuleiro 16 × 16 foram abertos, e os números em suas faces indicam quantos dos seus 8 vizinhos contêm minas (a serem evitadas). O número 40 no canto inferior direito é o número total de minas no tabuleiro, cujas posições foram escolhidas ao acaso, de forma uniforme, antes de se abrir qualquer quadrado.



Em sua próxima jogada, o jogador deve escolher dentre os quadrados marcados com as letras P, Q, R, S e T um para abrir, sendo que deve escolher aquele com a menor probabilidade de conter uma mina.

O jogador deverá abrir o quadrado marcado com a letra



- A P.
- B Q.
- C R.
- D S.
- E T.

QUESTÃO 56

(ENEM 2017 1ª APLICAÇÃO) Numa avenida existem 10 semáforos. Por causa de uma pane no sistema, os semáforos ficaram sem controle durante uma hora, e fixaram suas luzes unicamente em verde ou vermelho. Os semáforos funcionam de forma independente; a probabilidade de acusar a cor verde é de $\frac{2}{3}$ e a de acusar a cor vermelha é de $\frac{1}{3}$. Uma pessoa percorreu a pé toda essa avenida durante o período da pane, observando a cor da luz de cada um desses semáforos.

Qual a probabilidade de que esta pessoa tenha observado exatamente um sinal na cor verde?

- A $\frac{10 \times 2}{3^{10}}$
- B $\frac{10 \times 2^9}{3^{10}}$
- C $\frac{2^{10}}{3^{100}}$
- D $\frac{2^{90}}{3^{100}}$
- E $\frac{2}{3^{10}}$

QUESTÃO 57

(ENEM 2017 2ª APLICAÇÃO) Uma aluna estuda numa turma de 40 alunos. Em um dia, essa turma foi dividida em três salas, A, B e C, de acordo com a capacidade das salas. Na sala A ficaram 10 alunos, na B, outros 12 alunos e na C, 18 alunos. Será feito um sorteio no qual, primeiro, será sorteada uma sala e, posteriormente, será sorteado um aluno dessa sala.

Qual é a probabilidade de aquela aluna específica ser sorteada, sabendo que ela está na sala C?

- A $\frac{1}{3}$
- B $\frac{1}{18}$
- C $\frac{1}{40}$
- D $\frac{1}{54}$
- E $\frac{7}{18}$

QUESTÃO 58

(ENEM 2017 2ª APLICAÇÃO) Um programa de televisão criou um perfil em uma rede social, e a ideia era que esse perfil fosse sorteado para um dos seguidores, quando esses fossem em número de milhão. Agora que essa quantidade de seguidores foi atingida, os organizadores perceberam que apenas 80% deles são realmente fãs do programa. Por conta disso, resolveram que todos os seguidores farão um teste, com perguntas objetivas referentes ao programa, e só poderão participar do

sorteio aqueles que forem aprovados. Estatísticas revelam que, num teste dessa natureza, a taxa de aprovação é de 90% dos fãs e de 15% dos que não são fãs.

De acordo com essas informações, a razão entre a probabilidade de que um fã seja sorteado e a probabilidade de que o sorteado seja alguém que não é fã do programa é igual a

- A 1.
- B 4.
- C 6.
- D 24.
- E 96.

QUESTÃO 59

(ENEM 2017 LIBRAS) Um projeto para incentivar a reciclagem de lixo de um condomínio conta com a participação de um grupo de moradores, entre crianças, adolescentes e adultos, conforme dados do quadro.

Participantes	Número de pessoas
Crianças	X
Adolescentes	5
Adultos	10

Uma pessoa desse grupo foi escolhida aleatoriamente para falar do projeto. Sabe-se que a probabilidade de a pessoa escolhida ser uma criança é igual a dois terços.

Diante disso, o número de crianças que participa desse projeto é

- A 6
- B 9
- C 10
- D 30
- E 45

QUESTÃO 60

(ENEM 2017 LIBRAS) Um laboratório está desenvolvendo um teste rápido para detectar a presença de determinado vírus na saliva. Para conhecer a acurácia do teste é necessário avaliá-lo em indivíduos sabidamente doentes e nos sadios. A acurácia de um teste é dada pela capacidade de reconhecer os verdadeiros positivos (presença de vírus) e os verdadeiros negativos (ausência de vírus). A probabilidade de o teste reconhecer os verdadeiros negativos é denominada especificidade, definida pela probabilidade de o teste resultar negativo, dado que o indivíduo é sadio. O laboratório realizou um estudo com 150 indivíduos e os resultados estão no quadro.

Resultado do teste da saliva	Doentes	Sadios	Total
Positivo	57	10	67
Negativo	3	80	83
Total	60	90	150

Considerando os resultados apresentados no quadro, a especificidade do teste da saliva tem valor igual a



- A 0,11
- B 0,15
- C 0,60
- D 0,89
- E 0,96

QUESTÃO 61

(ENEM 2018 1ª APLICAÇÃO) Para ganhar um prêmio, uma pessoa deverá retirar, sucessivamente e sem reposição, duas bolas pretas de uma mesma urna.

Inicialmente, as quantidades e cores das bolas são como descritas a seguir:

- Urna A – Possui três bolas brancas, duas bolas pretas e uma bola verde;
- Urna B – Possui seis bolas brancas, três bolas pretas e uma bola verde;
- Urna C – Possui duas bolas pretas e duas bolas verdes;
- Urna D – Possui três bolas brancas e três bolas pretas.

A pessoa deve escolher uma entre as cinco opções apresentadas:

- Opção 1 – Retirar, aleatoriamente, duas bolas da urna A;
- Opção 2 – Retirar, aleatoriamente, duas bolas da urna B;
- Opção 3 – Passar, aleatoriamente, uma bola da urna C para a urna A; após isso, retirar, aleatoriamente, duas bolas da urna A;
- Opção 4 – Passar, aleatoriamente, uma bola da urna D para a urna C; após isso, retirar, aleatoriamente, duas bolas da urna C;
- Opção 5 – Passar, aleatoriamente, uma bola da urna C para a urna D; após isso, retirar, aleatoriamente, duas bolas da urna D.

Com o objetivo de obter a maior probabilidade possível de ganhar o prêmio, a pessoa deve escolher a opção

- A 1.
- B 2.
- C 3.
- D 4.
- E 5.

QUESTÃO 62

(ENEM 2018 1ª APLICAÇÃO) O gerente do setor de recursos humanos de uma empresa está organizando uma avaliação em que uma das etapas é um jogo de perguntas e respostas. Para essa etapa, ele classificou as perguntas, pelo nível de dificuldade, em fácil, médio e difícil, e escreveu cada pergunta em cartões para colocação em uma urna.

Contudo, após depositar vinte perguntas de diferentes níveis na urna, ele observou que 25% deles eram de nível fácil. Querendo que as perguntas de nível fácil sejam a maioria, o gerente decidiu acrescentar mais perguntas de nível fácil à urna, de modo que a probabilidade de o primeiro participante retirar, aleatoriamente, uma pergunta de nível fácil seja de 75%.

Com essas informações, a quantidade de perguntas de nível fácil que o gerente deve acrescentar à urna é igual a

- A 10.
- B 15.
- C 35.

- D 40.
- E 45.

QUESTÃO 63

(ENEM 2018 1ª APLICAÇÃO) O salto ornamental é um esporte em que cada competidor realiza seis saltos. A nota em cada salto é calculada pela soma das notas dos juízes, multiplicada pela nota de partida (o grau de dificuldade de cada salto). Fica em primeiro lugar o atleta que obtiver a maior soma das seis notas recebidas.

O atleta 10 irá realizar o último salto da final. Ele observa no Quadro 1, antes de executar o salto, o recorte do quadro parcial de notas com a sua classificação e a dos três primeiros lugares até aquele momento.

Quadro 1			
Classificação	Atleta	6º Salto	Total
1º	3	135,0	829,0
2º	4	140,0	825,2
3º	8	140,4	824,2
6º	10		687,5

Ele precisa decidir com seu treinador qual salto deverá realizar. Os dados dos possíveis tipos de salto estão no Quadro 2.

Quadro 2			
Tipo de salto	Nota de partida	Estimativa da soma das notas dos juízes	Probabilidade de obter a nota
T1	2,2	57	89,76%
T2	2,4	58	93,74%
T3	2,6	55	91,88%
T4	2,8	50	95,38%
T5	3,0	53	87,34%

O atleta optará pelo salto com a maior probabilidade de obter a nota estimada, de maneira que lhe permita alcançar o primeiro lugar.

Considerando essas condições, o salto que o atleta deverá escolher é o de tipo

- A T1.
- B T2.
- C T3.
- D T4.
- E T5.

QUESTÃO 64

(ENEM 2018 2ª APLICAÇÃO) Uma senhora acaba de fazer uma ultrassonografia e descobre que está grávida de quadrigêmeos.

Qual é a probabilidade de nascerem dois meninos e duas meninas?



- A 1/16
- B 3/16
- C 1/4
- D 3/8
- E 1/2

QUESTÃO 65

(ENEM 2018 2ª APLICAÇÃO) O gerente de uma empresa sabe que 70% de seus funcionários são do sexo masculino e foi informado de que a porcentagem de empregados fumantes nessa empresa é de 5% dos homens e de 5% das mulheres. Selecionando, ao acaso, a ficha de cadastro de um dos funcionários, verificou tratar-se de um fumante.

Qual a probabilidade de esse funcionário ser do sexo feminino?

- A 50,0%
- B 30,0%
- C 16,7%
- D 5,0%
- E 1,5%

QUESTÃO 66

(ENEM 2019 1ª APLICAÇÃO) Em um determinado ano, os computadores da receita federal de um país identificaram como inconsistentes 20% das declarações de imposto de renda que lhe foram encaminhadas. Uma declaração é classificada como inconsistente quando apresenta algum tipo de erro ou conflito nas informações prestadas. Essas declarações consideradas inconsistentes foram analisadas pelos auditores, que constataram que 25% delas eram fraudulentas. Constatou-se ainda que, dentre as declarações que não apresentaram inconsistências, 6,25% eram fraudulentas.

Qual é a probabilidade de, nesse ano, a declaração de um contribuinte ser considerada inconsistente, dado que ela era fraudulenta?

- A 0,0500
- B 0,1000
- C 0,1125
- D 0,3125
- E 0,5000

QUESTÃO 67

(ENEM 2019 1ª APLICAÇÃO) O dono de um restaurante situado às margens de uma rodovia percebeu que, ao colocar uma placa de propaganda de seu restaurante ao longo da rodovia, as vendas aumentaram. Pesquisou junto aos seus clientes e concluiu que a probabilidade de um motorista perceber uma placa de anúncio é $1/2$. Com isso, após autorização do órgão competente, decidiu instalar novas placas com anúncios de seu restaurante ao longo dessa rodovia, de maneira que a probabilidade de um motorista perceber pelo menos uma das placas instaladas fosse superior a $99/100$.

A quantidade mínima de novas placas de propaganda a serem instaladas é

- A 99.
- B 51.
- C 50.
- D 6.
- E 1.

QUESTÃO 68

(ENEM 2019 2ª APLICAÇÃO) Uma locadora possui disponíveis 120 veículos da categoria que um cliente pretende locar. Desses, 20% são da cor branca, 40% são da cor cinza, 16 veículos são da cor vermelha e o restante, de outras cores. O cliente não gosta da cor vermelha e ficaria contente com qualquer outra cor, mas o sistema de controle disponibiliza os veículos sem levar em conta a escolha da cor pelo cliente.

Disponibilizando aleatoriamente, qual é a probabilidade de o cliente ficar contente com a cor do veículo?

- A 16/120
- B 32/120
- C 72/120
- D 101/120
- E 104/120

QUESTÃO 69

(ENEM 2019 2ª APLICAÇÃO) Uma empresa sorteia prêmios entre os funcionários como reconhecimento pelo tempo trabalhado. A tabela mostra a distribuição de frequência de 20 empregados dessa empresa que têm de 25 a 35 anos trabalhados. A empresa sorteou, entre esses empregados, uma viagem de uma semana, sendo dois deles escolhidos aleatoriamente.

Tempo de serviço	Número de empregados
25	4
27	1
29	2
30	2
32	3
34	5
35	3

Qual a probabilidade de que ambos os sorteados tenham 34 anos de trabalho?

- A 1/20
- B 1/19
- C 1/16
- D 2/20
- E 5/20

QUESTÃO 70

(ENEM 2020 1ª APLICAÇÃO) Suponha que uma equipe de corrida de automóveis disponha de cinco tipos de pneu (I, II, III, IV, V), em que o fator de eficiência climática EC (índice que fornece o comportamento do pneu em uso, dependendo do clima) é apresentado:

- EC do pneu I: com chuva 6, sem chuva 3;
- EC do pneu II: com chuva 7, sem chuva -4;
- EC do pneu III: com chuva -2, sem chuva 10;
- EC do pneu IV: com chuva 2, sem chuva 8;
- EC do pneu V: com chuva -6, sem chuva 7.



O coeficiente de rendimento climático (CRC) de um pneu é calculado como a soma dos produtos dos fatores de EC, com ou sem chuva, pelas correspondentes probabilidades de se ter tais condições climáticas: ele é utilizado para determinar qual pneu deve ser selecionado para uma dada corrida, escolhendo-se o pneu que apresentar o maior CRC naquele dia. No dia de certa corrida, a probabilidade de chover era de 70% e o chefe da equipe calculou o CRC de cada um dos cinco tipos de pneu.

O pneu escolhido foi

- A I.
- B II.
- C III.
- D IV.
- E V.

QUESTÃO 71

(ENEM 2020 1º APLICAÇÃO) O Estatuto do Idoso, no Brasil, prevê certos direitos às pessoas com idade avançada, concedendo a estas, entre outros benefícios, a restituição de imposto de renda antes dos demais contribuintes. A tabela informa os nomes e as idades de 12 idosos que aguardam suas restituições de imposto de renda. Considere que, entre os idosos, a restituição seja concedida em ordem decrescente de idade e que, em subgrupos de pessoas com a mesma idade, a ordem seja decidida por sorteio.

Nome	Idade (em ano)
Orlando	89
Gustavo	86
Luana	86
Teresa	85
Márcia	84
Roberto	82
Heloisa	75
Marisa	75
Pedro	75
João	75
Antônio	72
Fernanda	70

Nessas condições, a probabilidade de João ser a sétima pessoa do grupo a receber sua restituição é igual a

- A 1/12
- B 7/12
- C 1/8
- D 5/6
- E 1/4

QUESTÃO 72

(ENEM 2020 1º APLICAÇÃO) Amigo secreto é uma brincadeira tradicional nas festas de fim de ano. Um grupo de amigos se reúne e cada um deles sorteia o nome da pessoa que irá presentear. No dia da troca de presentes, uma primeira pessoa presenteia seu amigo secreto. Em seguida, o presenteado revela seu amigo secreto e o presenteia. A brincadeira continua até que todos sejam

presenteados, mesmo no caso em que o ciclo se fecha. Dez funcionários de uma empresa, entre eles um casal, participarão de um amigo secreto. A primeira pessoa a revelar será definida por sorteio.

Qual é a probabilidade de que a primeira pessoa a revelar o seu amigo secreto e a última presenteada sejam as duas pessoas do casal?

- A 1/5
- B 1/45
- C 1/50
- D 1/90
- E 1/100

QUESTÃO 73

(ENEM 2020 DIGITAL) Uma casa lotérica oferece cinco opções de jogos. Em cada opção, o apostador escolhe um grupo de K números distintos em um cartão que contém um total de N números disponíveis, gerando, dessa forma, um total de C combinações possíveis para se fazer a marcação do cartão. Ganha o prêmio o cartão que apresentar os K números sorteados. Os valores desses jogos variam de R\$ 1,00 a R\$ 2,00, conforme descrito no quadro.

Jogo	Valor do jogo (R\$)	Números a serem escolhidos (K)	Números disponíveis (N)	Combinações possíveis (C)
I	1,50	6	45	8.145.060
II	1,00	6	50	15.890.700
III	2,00	5	60	5.461.512
IV	1,00	6	60	50.063.860
V	2,00	5	50	2.118.760

Um apostador dispõe de R\$ 2,00 para gastar em uma das cinco opções de jogos disponíveis.

Segundo o valor disponível para ser gasto, o jogo que oferece ao apostador maior probabilidade de ganhar prêmio é o

- A I.
- B II.
- C III.
- D IV.
- E V.

QUESTÃO 74

(ENEM 2020 DIGITAL) Um apostador deve escolher uma entre cinco moedas ao acaso e lançá-la sobre uma mesa, tentando acertar qual resultado (cara ou coroa) sairá na face superior da moeda.

Suponha que as cinco moedas que ele pode escolher sejam diferentes:

- duas delas têm “cara” nas duas faces;
- uma delas tem “coroa” nas duas faces;
- duas delas são normais (cara em uma face e coroa na outra).

Nesse jogo, qual é a probabilidade de o apostador obter uma face “cara” no lado superior da moeda lançada por ele?



- A 1/8
- B 2/5
- C 3/5
- D 3/4
- E 4/5

QUESTÃO 75

(ENEM 2020 2º APLICAÇÃO) Para um docente estrangeiro trabalhar no Brasil, ele necessita validar o seu diploma junto ao Ministério da Educação. Num determinado ano, somente para estrangeiros que trabalharão em universidades dos estados de São Paulo e Rio de Janeiro, foram validados os diplomas de 402 docentes estrangeiros. Na tabela, está representada a distribuição desses docentes estrangeiros, por países de origem, para cada um dos dois estados.

	Argentina	Espanha	Cuba	Portugal	Venezuela	Total de docentes
São Paulo	112	60	28	9	30	239
Rio de Janeiro	29	40	46	36	12	163
Total	141	100	74	45	42	402

A probabilidade de se escolher, aleatoriamente, um docente espanhol, sabendo-se que ele trabalha em uma universidade do estado de São Paulo é

- A 60/402
- B 60/239
- C 60/100
- D 100/239
- E 279/402

QUESTÃO 76

(ENEM 2020 2º APLICAÇÃO) Em uma campanha promocional de uma loja, um cliente gira uma roleta, conforme a apresentada no esquema, almejando obter um desconto sobre o valor total de sua compra. O resultado é o que está marcado na região apontada pela seta, sendo que todas as regiões são congruentes. Além disso, um dispositivo impede que a seta venha a apontar exatamente para a linha de fronteira entre duas regiões adjacentes. Um cliente realiza uma compra e gira a roleta, torcendo para obter o desconto máximo.



A probabilidade, em porcentagem, de esse cliente ganhar o desconto máximo com um único giro da roleta é melhor aproximada por

- A 8,3.
- B 10,0.
- C 12,5.
- D 16,6.
- E 50,0

GABARITO

01	B	02	D	03	A	04	B	05	A
06	C	07	C	08	E	09	E	10	B
11	E	12	E	13	B	14	A	15	A
16	B	17	C	18	C	19	A	20	B
21	B	22	A	23	E	24	D	25	D
26	C	27	A	28	E	29	D	30	A
31	D	32	D	33	B	34	E	35	E
36	E	37	A	38	B	39	C	40	B
41	C	42	B	43	E	44	E	45	A
46	C	47	D	48	B	49	C	50	D
51	C	52	C	53	D	54	C	55	B
56	A	57	D	58	D	59	D	60	D
61	E	62	D	63	C	64	D	65	B
66	E	67	D	68	E	69	B	70	A
71	E	72	NULO	73	E	74	C	75	B
76	A								